

Умно: 455.

0 6/2

Управление образования Городовиковского районного муниципального образования
Республики Калмыкия
Задания школьного этапа Всероссийской олимпиады школьников
по обществознанию, 6 класс
2024-2025 учебный год

Время выполнения заданий 45 минут
Максимальное количество баллов 70

Задание 1. «Да» или «нет»? Если Вы согласны с утверждением, напишите «да»,
если не согласны – «нет». Внесите свои ответы в таблицу. За каждый правильный ответ
1 балл. Максимальный балл -10.

1. Человек рождается личностью и становится индивидом.
2. Потребности бывают биологические и духовные.
3. Подростковый возраст характеризуется как критический, переломный этап в развитии личности.
4. Игра и труд являются видами деятельности человека.
5. Общение возможно только с помощью вербальных средств.
6. Семейные традиции не являются видом социальных норм.
7. Глобальные конфликты, как социальное явление, сформировались вXX веке.
8. Конфликты в обществе неизбежны.
9. Экономика — сфера общественной жизни, в которой происходит производство, распределение, обмен и потребление материальных благ.
10. Законодательную власть в РФ осуществляет Парламент.

25.

1	2	3	4	5	6	7	8	9	10
нет	да	да	да	нет	нет	нет	да	да	да





Задание 2. Вставьте пропущенные буквы в представленные термины. Максимальный балл -10.

1. Пр в зидент д
2. Феде р ация ц

105.

- 3. Социальная группа ² _{пп} а
- 4. Государство
- 5. Ценность

Задание 3. Государственные праздники. Заполните таблицу: сопоставив изображение и дату государственного праздника (в таблицу впишите номера дат и изображения), укажите название праздника. Какие еще государственные праздники вы знаете? (назовите не менее трёх). Максимальный балл -15.

	
1	2
	
3	4

- А) 9 мая
- Б) 4 ноября
- В) 12 июня
- Г) 22 августа

Изображение	Дата	Название праздника
1	4 ноября	день народного единства
2	22 августа	
3	9 мая	день Победы
4	12 июня	день России

115.

- Государственные праздники:
- 1) Новый год
 - 2) Пасха
 - 3) день Победы

Задание 4. Образуйте группы из приведенных терминов. Номера терминов занесите в таблицу. Укажите принцип группировки. Максимальный балл -12.

- 1) банк, 2) наука, 3) завод, 4) выборы, 5) валюта, 6) искусство,
- 7) религия, 8) митинг, 9) правительство.

45.

№ ряда	№ терминов	Принцип группировки.
1	3, 4, 8, 9, 5	в каждой стране есть свое правительство, религия, и выборы президента
2	1, 5	
3	2, 7, 3	деятельности людей, друзей

3+1

Задание 5. Решите экономическую задачу. Максимальный балл -6

Семья Сидоровых, решив сохранить некоторую накопленную сумму, решила курить три ноутбука, чтобы потом продать дороже в случае денежных затруднений. Можно ли считать такое вложение эффективным? Свое решение поясните. Предложите Сидоровым рациональные способы сохранения Накоплений. (Не менее двух способов)

Ответ: это не очень верно, так как ценность может упасть и дороже уже не продать.

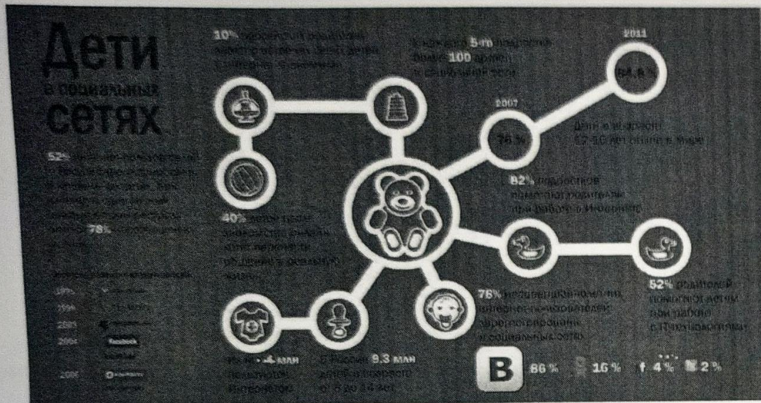
Пояснение: можно вложить в покупку квартиры, можно вложить в покупку например ружья и продать.

65.

Способы сохранения накоплений:

- 1) выложить в банк.
- 2) выложить в сейф.

Задание 6. Ознакомьтесь с инфографикой и полученными на её основании утверждениями. Выберите верные утверждения. Максимальный балл -5



- 1) Более половины несовершеннолетних имеют аккаунт в социальных сетях
- 2) Половина несовершеннолетних регулярно пользуются интернетом.
- 3) 20% подростков имеют более 100 друзей в социальных сетях.
- 4) Количество детей 12-16 лет on-line в мире увеличивается.
- 5) Родители не помогают своим детям при работе в интернете.
- 6) Российские социальные сети появляются в начале XXI века.
- 7) Большинство родителей не знают о встречах своих детей в интернете знакомыми.

8) Самыми популярными сетями среди несовершеннолетних является «ВК» и «Твиттер».

9) Социальные сети наносят вред психическому и моральному развитию детей.

Ответ: 1; 3; 6; 7; 4;

Задание 7. Правовая задача. Проанализируйте ситуацию и ответьте на вопросы. Максимальный балл-7.

10-летний Петр ходил с мамой голосовать. Мама разрешила ему опустить бюллетени в урну. Во дворе Петр рассказал друзьям, что он проголосовал за Президента РФ. Прав ли Петр? Своё мнение обоснуйте. Какие ещё права имеют несовершеннолетние? (Не менее трех).

Ответ: смотря с какой стороны, Петр не прав

Пояснение: так как он опустил бюллетеня в урну, но сам не писал за кого голосует.

Права несовершеннолетних: 1) на учебу образование.

2) на здоровье.

3) на социальное обеспечение.

Задание 8. Прочитай притчу и ответь на вопрос: Какова мораль этой притчи? Назови поговорку/ пословицу, иллюстрирующую мораль этой притчи. Максимальный балл-5

Между друзьями произошла ссора. Один из друзей стал плохоотзываться о втором в кругу посторонних людей. Спустя время юноша понял свою ошибку. Пришел к другу и стал извиняться.

Выслушав извинения, второй мальчишка сказал, что обида прошла, но при этом обратился с просьбой. Попросил распороть подушку и пустить все